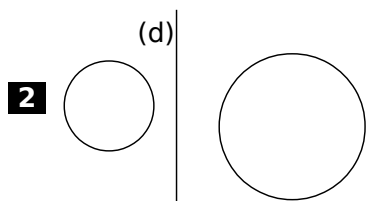
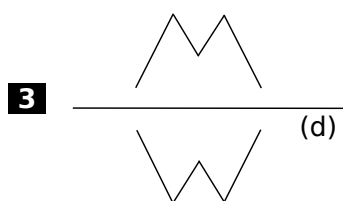


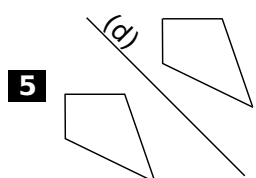
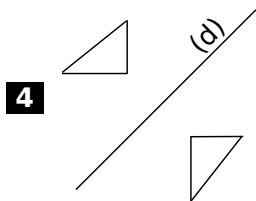
1 Pour chaque question, vérifie avec un morceau de papier calque si les figures sont symétriques par rapport à la droite (d). Écris et justifie ta réponse sur les lignes en pointillés.



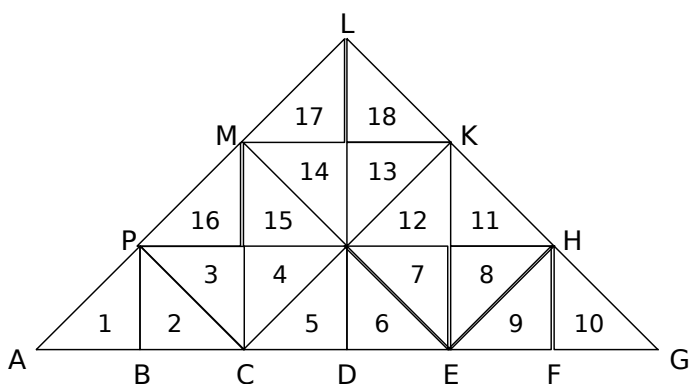
a.



a.



6 Les triangles fous !



a. Colorie en bleu le symétrique du triangle 3 par rapport à la droite (PH).

b. Colorie en vert le symétrique du triangle 10 par rapport à la droite (KE).

c. Colorie en rouge le symétrique du triangle 6 par rapport à la droite (ME).

d. Colorie en gris le symétrique du triangle 11 par rapport à la droite (CK).

e. Complète les phrases.

- Les triangles 2 et 9 sont symétriques par rapport à la droite (.....).
- Les triangles 8 et 17 sont symétriques par rapport à la droite (.....).

7 Construis le symétrique de chaque figure par rapport à la droite (d) en utilisant le papier quadrillé ou pointé.

