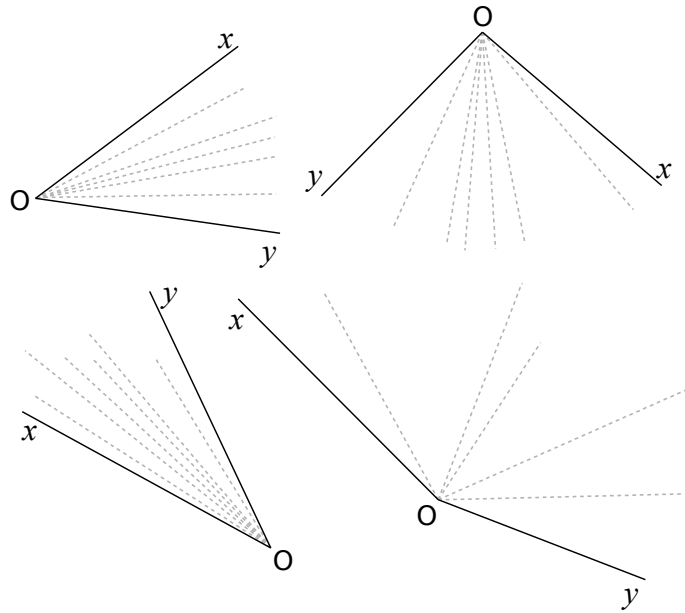
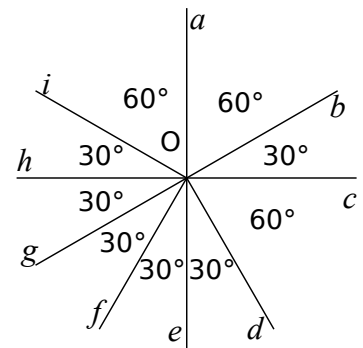


**1** Pour chaque cas, repasse en couleur la demi-droite qui semble être, à vue d'œil, la bissectrice de l'angle  $\widehat{xOy}$ .

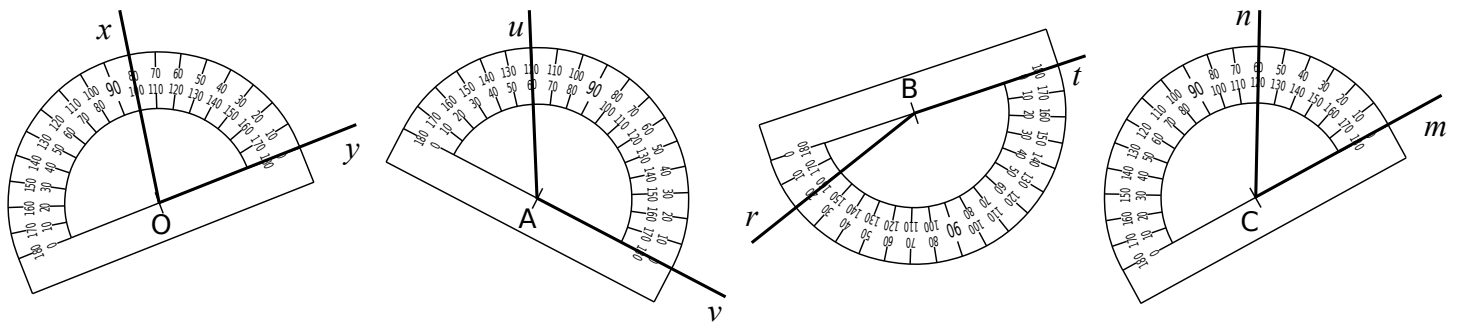


**2** Observe la figure ci-contre puis réponds aux questions suivantes.

- a. Quelle est la bissectrice de l'angle  $\widehat{bOi}$  ? .....
- b. Quelle est la bissectrice de l'angle  $\widehat{iOe}$  ? .....
- c. Quelle est la bissectrice de l'angle  $\widehat{fOc}$  ? .....
- d. Quelle est la bissectrice de l'angle  $\widehat{aOg}$  ? .....
- e. Quelle est la bissectrice de l'angle  $\widehat{gOb}$  ? .....



**3** Construis la bissectrice de chacun des angles suivants.



**4** À l'aide du rapporteur, construis la bissectrice de chacun des angles suivants.

